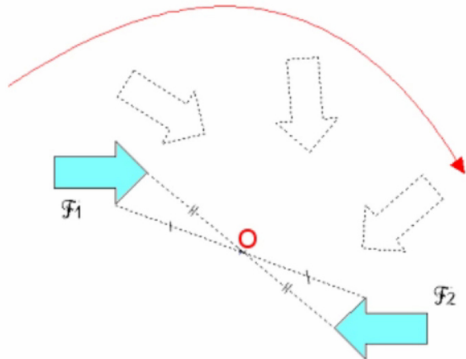


Utiliser le théorème de THALES

Il s'agit de prolonger l'étude commencée en classe de quatrième.

I) L'homothétie :

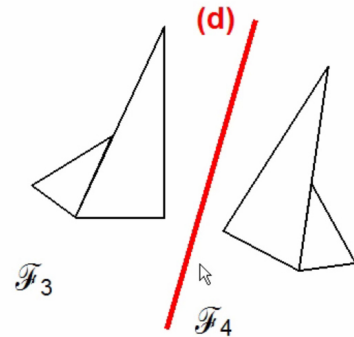
1) Les transformations du plan que nous connaissons :



symétrie centrale

\mathcal{F}_2 est l'image de \mathcal{F}_1 par la symétrie centrale de centre O.
La **symétrie centrale** de centre O transforme \mathcal{F}_1 en \mathcal{F}_2

(vu en 5ième)



symétrie axiale

\mathcal{F}_4 est l'image de \mathcal{F}_3 par la symétrie d'axe (d).
La **symétrie axiale** d'axe (d) transforme \mathcal{F}_3 en \mathcal{F}_4

(vu en 6ième)

Nous allons voir une nouvelle transformation du plan : l'homothétie¹.

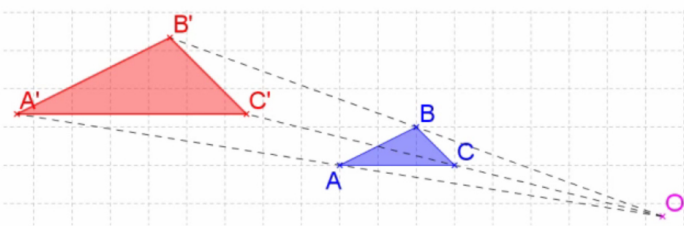
Le but de ce paragraphe est de comprendre l'effet que peut avoir une homothétie sur une figure géométrique.

2) Définition : une **homothétie** est une transformation du plan qui **permet d'agrandir ou de réduire une figure**.

Pour la définir, on choisit :

- un point : appelé le **centre de l'homothétie**
- un nombre relatif non nul k : appelé le **rapport de l'homothétie**

Ex :



A'B'C' est l'image de ABC par l'homothétie de **centre O** et de rapport **2**. Elle correspond à un agrandissement.

Soit un point O, qu'on appellera centre, et un nombre k , qu'on appellera rapport. Si A est un point, l'image de A par l'homothétie de centre O et de rapport k est :

si k est positif :

- le point A' tel que les points A et A' sont alignés avec O, **du même côté par rapport à O** et on a :

$$OA' = k \times OA$$

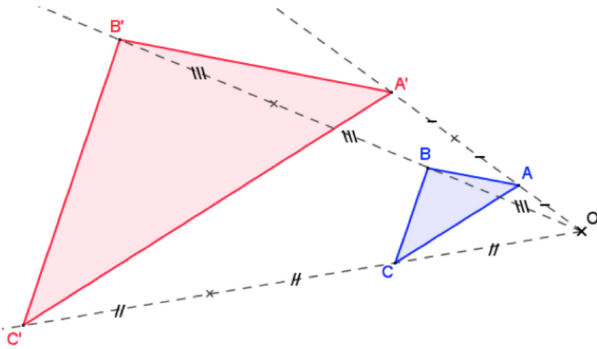
si k est négatif :

- le point A' tel que les points A et A' sont alignés avec O, **de part et d'autre de O** et on a :

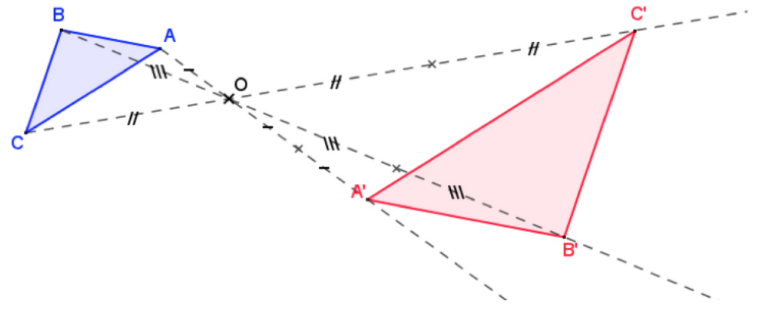
$$OA' = k \times OA$$

¹ Du grec *homo* qui veut dire semblable et de *thésis* qui veut dire position.

3) Exemples :



- $A'B'C'$ est l'image du triangle ABC par l'homothétie de centre O et de rapport 3.
- Les distances OA, OB et OC ont été multipliées par 3 pour obtenir OA' , OB' et OC' .
- Comme le rapport est positif (3), les points A et A' sont du même côté par rapport à O.




- $A'B'C'$ est l'image du triangle ABC par l'homothétie de centre O et de rapport -2.
- Les distances OA, OB et OC ont été multipliées par 2 pour obtenir OA' , OB' et OC' .
- Comme le rapport est négatif (-2), les points A et A' sont de part et d'autre du point O.

Dans ces deux exemples, la figure rouge est un agrandissement de la figure bleue, car les rapports sont soit supérieurs à 1, soit inférieurs à -1.

Dans une homothétie dont le rapport est supérieur à 1 ou inférieur à -1, on obtient un agrandissement de la figure initiale.
Dans une homothétie dont le rapport est compris entre -1 et 1, on obtient une réduction de la figure initiale.
De plus, si le rapport d'une homothétie est exactement égal à -1, cela correspond à une symétrie centrale, vue en 5ème.

4) Construire l'image d'une figure par une homothétie :

Observons ensemble cette vidéo.



<https://youtu.be/ws4LxlqgK2c>

Cas particulier :

Il arrive parfois que le centre de l'homothétie soit un point de la figure elle-même.

II) Le théorème de THALES :